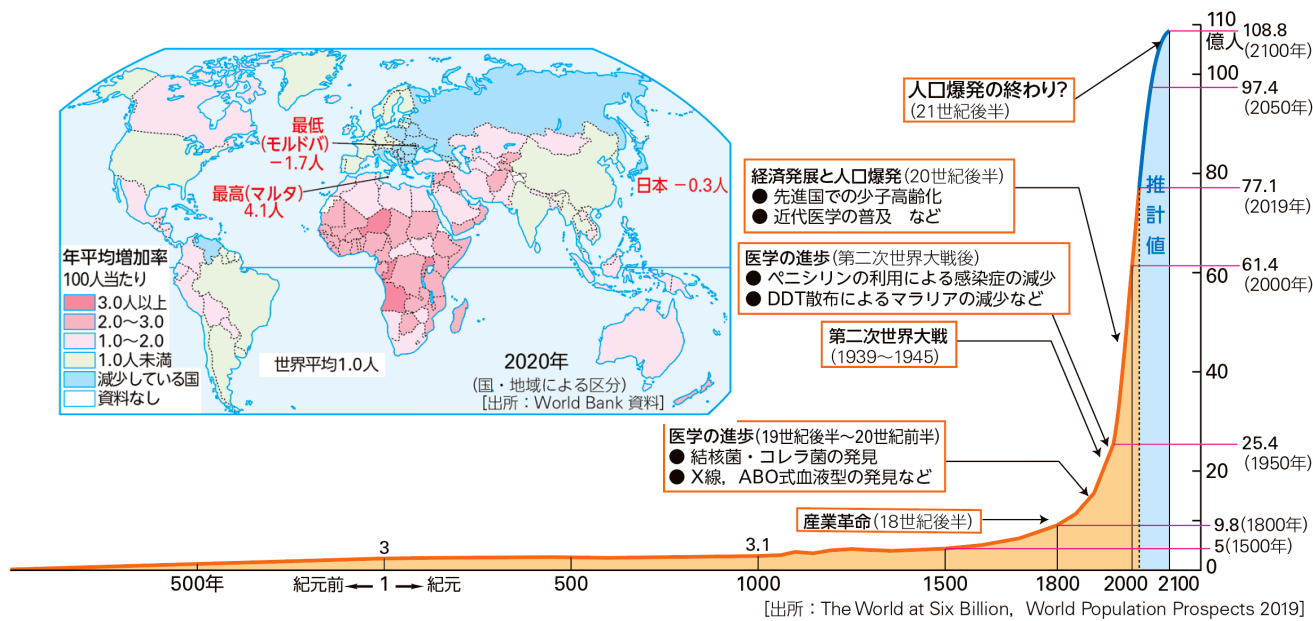


22	発展途上国の人口	学習日	月	日	名前：
----	----------	-----	---	---	-----

1. 世界の人口

1950年 (1 ) )  
 2000年 (2 ) ) = 50年間で2倍以上に増加  
 このような急激な人口増加を(3 ) という  
 2100年 109億人でピークに達すると言われる <人口爆発の終わり>



人口増加率が高い国が多いのはどの地域でしょうか？

人口減少している国が多いのはどの地域でしょうか？

2. 人口はどのように増加するのか

(4 ) ... 出生率 > 死亡率  
 (5 ) ... 人口の移動による増加 転入 > 転出

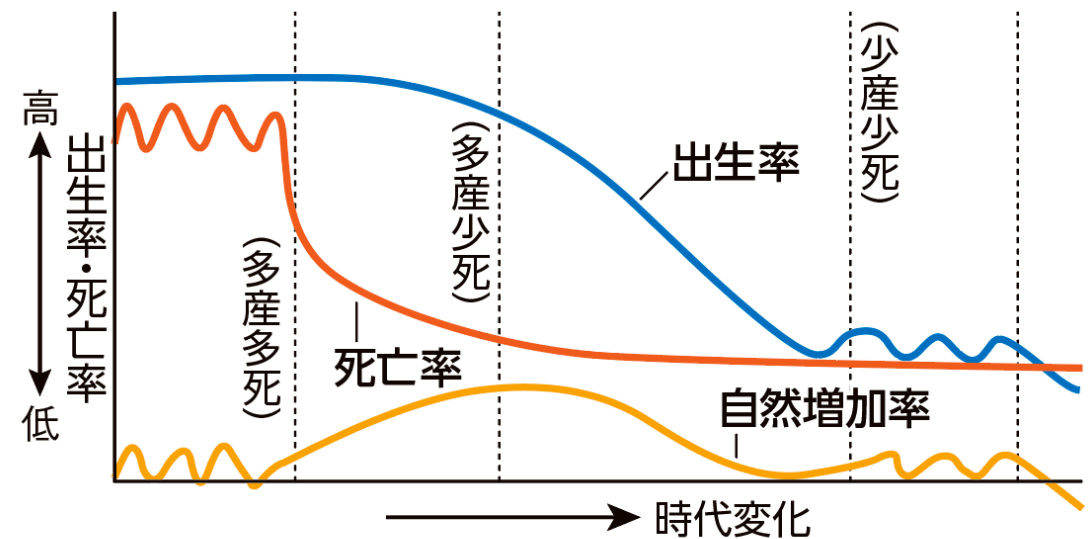
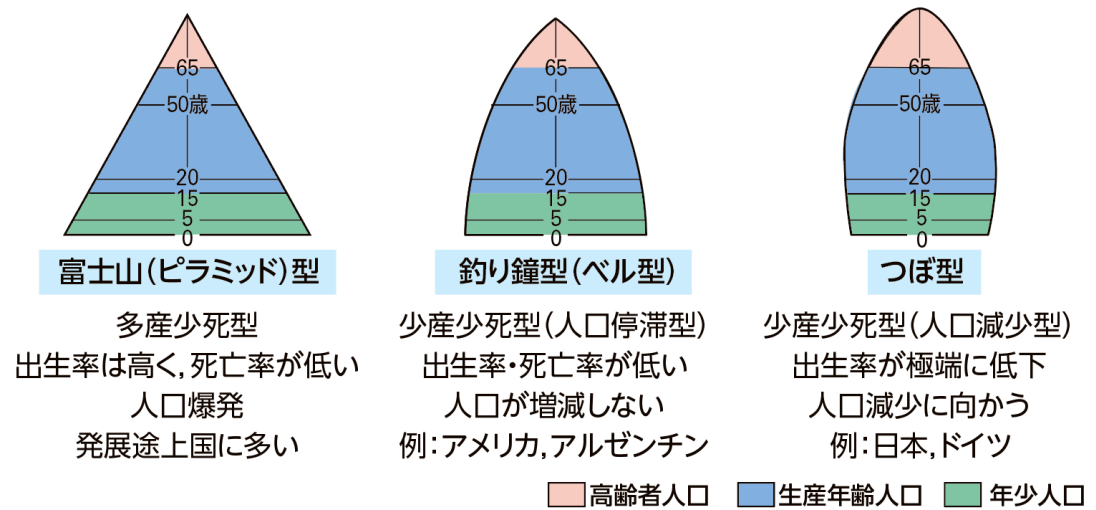
出生率の変化

- ① (6 ) 型社会  
< 医療の発展、医療支援 >
- ② (7 ) 型社会  
< 経済が発展、人口も増加 >
- ③ (8 ) 型社会  
< 進学率の上昇、女性の社会進出、晩婚化などによる出生率の減少 >

3. 発展途上国の人口問題

多産多死型の時期に

- ・ 先進国からの医療支援 ... 死亡率は減少、出生率は減少せず
- ・ 特に農村では子どもが貴重な (9 )
- 出生率は減少しない
- ・ (10 ) が整備されない
- 電気、ガス、水道の未整備
- 食糧や水の不足
- 住宅の未整備
- ・ (11 ) 制度の未整備
- 子どもに頼る社会が続く



[出所：少子化社会白書]